



آزمون ریاضی دی ماه (پایه چهارم)

| نام و نام خانوادگی:  | تاریخ:  |
|--|---|
| <p>الف</p> <p>پاسخ صحیح را مشخص کنید.</p> <p>۱- بزرگترین عدد پنج رقمی با رقم های ۶،۸،۰،۷،۴ کدام است؟<br/>                     الف) ۸۰۷۶۴ (ب) ۷۸۶۴۰ (ج) ۸۷۶۴۰ (د) ۴۰۶۷۸</p> <p>۲- ارزش مکانی رقم ۵ در عدد ۹۰۵۲۳۱ کدام است؟<br/>                     الف) یکان هزار (ب) دهگان هزار (ج) صدگان (د) صدگان هزار</p> <p>۳- کدام عدد بر ۳ بخش پذیر است؟<br/>                     الف) ۹۸ (ب) ۳۱۵ (ج) ۷۰۴ (د) ۴۳۹</p> <p>۴- کدام یک از اعداد زیر نمی تواند باقیمانده تقسیم عدد بر ۴ باشد؟<br/>                     الف) ۰ (ب) ۳ (ج) ۲ (د) ۴</p> <p>۵- کدام یک از بقیه بزرگتر است؟<br/>                     الف) <math>\frac{5}{5}</math> (ب) <math>\frac{5}{5}</math> (ج) <math>\frac{4}{5}</math> (د) <math>\frac{1}{5}</math></p> | <p>ب</p> <p>در جای خالی عدد یا کلمه مناسب بنویسید.</p> <p>۶- ۵۰ تا هزار تایی می شود.....</p> <p>۷- اگر صورت دو کسر برابر باشند در این حالت کسری بزرگتر است که مخرجش ..... باشد.</p> <p>۸- هزار کیلوگرم یک ..... است.</p> <p>۹- بزرگترین عدد شش رقمی بدون تکرار رقم ها.....</p> <p>۱۰- خمس عدد ۴۵ میشود.....</p> |
| <p>ج</p> <p>درست یا نادرست بودن عبارات زیر را مشخص کنید.</p> <p>۱۱- در تقسیم همیشه باقی مانده از مقسوم علیه کوچکتر است.<br/> <input type="radio"/> درست <input type="radio"/> نادرست</p> <p>۱۲- عدد ۴۳ بر ۶ بخش پذیر است.<br/> <input type="radio"/> درست <input type="radio"/> نادرست</p> <p>۱۳- <math>\frac{4}{7}</math> یعنی ۲ تا <math>\frac{2}{7}</math><br/> <input type="radio"/> درست <input type="radio"/> نادرست</p>   |   |
| <p>۱۴- حاصل جمع و تفریق کسر های زیر را به دست آورید.</p> <p><math>\frac{2}{4} - \frac{2}{12} =</math></p> <p><math>\frac{2}{4} + \frac{3}{8} =</math></p>  |   |

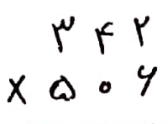
۱۵- اعداد زیر را مقایسه کنید و علامت مناسب  $<=>$  بگذارید.  
 $۴۳۰۰۵۳ \bigcirc ۴۹۸۵۴۱$      $\frac{۲}{۶} \bigcirc \frac{۱}{۳}$      $\frac{۵}{۶} \bigcirc ۱$      $\frac{۳}{۴} \bigcirc \frac{۲}{۴}$

۱۶- عدد مخلوط و کسر شکل های زیر را بنویسید.  



۱۷- با توجه به عدد ۳۴۹۰۶۱۵ به سوالات زیر پاسخ دهید.  
 این عدد را به حروف بنویسید.  
 کدام رقم کمترین ارزش مکانی را دارد؟  
 کدام رقم در مرتبه یکان میلیون قرار دارد؟  
 این عدد را با حذف یکان و دهگان و صدگان (تقریب هزارگان) تقریب کنید.

۱۸- قیمت یک کیف ۲۶۸۰ تومان است. اگر قیمت یک کوله پشتی ۳ برابر آن باشد قیمت کوله پشتی چند تومان است؟

۱۹- تقسیم مقابل را انجام داده و عبارتهای درستی آن را بنویسید.  
 $۶۷۳ \overline{) ۸}$   
 عبارت های درستی .....

۲۰- ضرب های زیر را انجام دهید.  
 $۳ \times \frac{۲}{۹} =$      $۳۴۲ \times ۵۰۶$      $۴۰۰ \times ۳۰۰ =$   
  
 دخترم موفق باشید.